

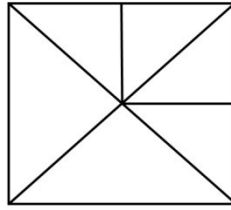
- Q1. दिये गये विकल्पों में से संबन्धित शब्द/अक्षरों/संख्या को चुनिए।
 कॉलेज : छात्र :: अस्पताल : ?
a. डॉक्टर **b.** उपचार **c.** नर्स **d.** रोगी
- Q2. दिये गये विकल्पों में से संबन्धित शब्द/अक्षरों/संख्या को चुनिए।
 DHL : PTX :: BFJ : ?
a. NRV **b.** RVZ **c.** CGK **d.** KOS
- Q3. दिये गये विकल्पों में से संबन्धित शब्द/अक्षरों/संख्या को चुनिए।
 5 : 124 :: 7 : ?
a. 125 **b.** 248 **c.** 342 **d.** 343
- Q4. इस प्रश्न में दिए गए विकल्पों में से विषम शब्द/अक्षर/संख्या युग्म चुनिए।
a. कठोर : नरम **b.** गर्म : ठंडा
c. सही : गलत **d.** आना : पहुंचना
- Q5. इस प्रश्न में दिए गए विकल्पों में से विषम शब्द/अक्षर/संख्या युग्म चुनिए।
a. AG **b.** WA **c.** ET **d.** IQ
- Q6. इस प्रश्न में दिए गए विकल्पों में से विषम शब्द/अक्षर/संख्या युग्म चुनिए।
a. 14, 12 **b.** 24, 7 **c.** 42, 4 **d.** 37, 4
- Q7. निम्नलिखित शब्दों को शब्दकोश के अनुसार क्रम में लिखें।
 1. RESIGN 2. REPAIR 3. RESIDUE 4. RESEARCH
 5. RESCUE
a. 4 5 3 1 2 **b.** 2 5 4 3 1
c. 2 5 4 1 3 **d.** 5 4 3 1 2
- Q8. इस प्रश्न में एक श्रृंखला दी गई है, जिसमें एक पद लुप्त है। दिए गए विकल्पों में से वह सही विकल्प चुनिए जो श्रृंखला को पूरा करे।
 JAZ, LEX, NIV, PMT, ?
a. QUR **b.** RQR **c.** SUR **d.** RUS
- Q9. इस प्रश्न में एक श्रृंखला दी गई है, जिसमें एक पद लुप्त है। दिए गए विकल्पों में से वह सही विकल्प चुनिए जो श्रृंखला को पूरा करे।
 19, 28, 39, 52, ?, 84
a. 39 **b.** 52 **c.** 67 **d.** 84
- Q10. X और Y भाई हैं। R, Y का पिता है, T, S की बहन है। S, X का मामा है। T का R से क्या संबंध है?
a. माता **b.** पत्नी **c.** बहन **d.** भाई

- Q11. A , B से लम्बा है। C A से लम्बा है। D,E से लम्बा है लेकिन B से छोटा है। तदनुसार , उनमें सबसे लम्बा कौन है?
- a. C b. A c. D d. B**
- Q12. निम्नलिखित विकल्पों में से वह शब्द चुनिए जो दिए गए शब्द के अक्षरों का प्रयोग करके बनाया जा सकता है।
SOMNAMBULISM
- a. NAMES b. BASALT c. SOUL d. BIOME**
- Q13. यदि D=4 , DOG=26 तो ANIMAL का मान ज्ञात कीजिए।
- a. 47 b. 49 c. 48 d. 50**
- Q14. यदि +, ÷ के लिए आता है, -, = के लिए आता है, x, + के लिए आता है, ÷ ,से बड़े के लिए आता है, = से कम के लिए आता है, > गुणा के लिए आता है, और < घटाने के लिए आता है, तो दिए गए विकल्पों में से कौन सा विकल्प सही है?
- a. $5 \div 2 \times 1 = 3 + 4 > 1$ b. $5 > 2 \times 1 - 3 > 4 < 1$**
c. $5 \times 2 < 1 - 3 < 4 \times 1$ d. $5 < 2 \times 1 \div 3 > 4 \times 1$
- Q15. कुछ समीकरण एक निश्चित प्रणाली से हल किए गए हैं। उसी आधार पर दिए गए विकल्पों में से सही उत्तर चुनकर लिखिए?
- $3 \times 4 \times 5 = 435$
 $4 \times 3 \times 2 = 342$
 $2 \times 3 \times 4 = ?$
- a. 324 b. 342 c. 432 d. 243**
- Q16. प्रश्न में दिए गए विकल्पों में से लुप्त संख्या ज्ञात कीजिए।
- a. 56 b. 120 c. 151 d. 154**
- Q17. राम पूर्व की ओर 3 कि.मी. चलता है और बाएं मुड़कर 1 कि.मी. चलता है। फिर बाएं मुड़कर वह 2 कि.मी. और चलता है। फिर एक बार और बाएं मुड़कर 1 कि.मी. चलता है। वह प्रारम्भ स्थल से कितने कि.मी. दूर है?
- a. 1 कि.मी. b. 2 कि.मी. c. 3 कि.मी. d. 4 कि.मी.**
- Q18. निम्नलिखित प्रश्न में एक या दो वक्तव्य दिये गये हैं, जिसके आगे दो निष्कर्ष/मान्यताएं, I और II निकाले गये हैं। आपको विचार करना है कि वक्तव्य सत्य है चाहे वह सामान्यतः शर्त तथ्यों से भिन्न प्रतीत होता हो। आपको निर्णय करना है कि दिए गए वक्तव्य में से कोन-सा निश्चित रूप से सही निष्कर्ष/मान्यता निकाला जा सकता है?
- कथन:
सभी फल पत्तियां हैं। कुछ फल अंगूर हैं।

निष्कर्ष :

- I. कुछ पत्तियां अंगूर हैं। II. सभी अंगूर फल हैं।
a. केवल निष्कर्ष I सही है
b. केवल निष्कर्ष II सही है
c. दोनों निष्कर्ष सही हैं।
d. ना तो निष्कर्ष I और ना ही निष्कर्ष II सही है।

Q19. दिए हुए चित्र में कितने त्रिभुज हैं?

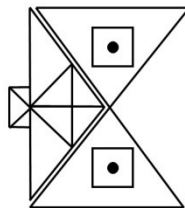


- a.** 6 **b.** 8 **c.** 10 **d.** 12

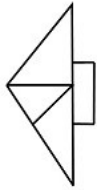
Q20. निम्नलिखित में से कौन सा आरेख डॉक्टर, सर्जनों तथा नर्सों के बीच सही संबंध को दर्शाता है?

- a.** **b.**
c. **d.**

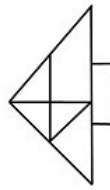
Q21. कौन सी उत्तर आकृति प्रश्न आकृति के प्रतिरूप को पूरा करेगी?



- a.** **b.**

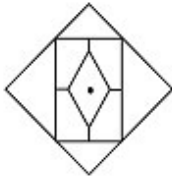
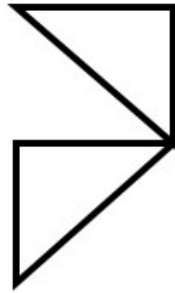


c.

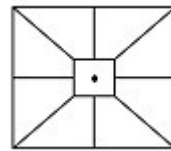


d.

Q22. दी गई उत्तर आकृतियों में से उस उत्तर आकृति को चुनिए जिसमें प्रश्न आकृति छिपी या निहित है।



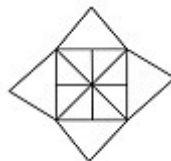
a.



b.

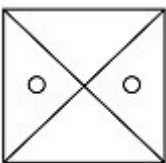
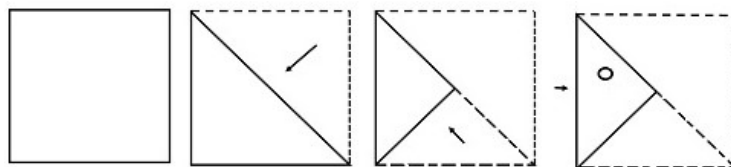


c.

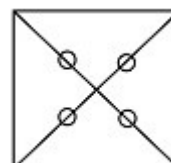


d.

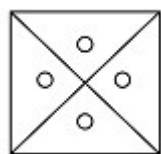
Q23. नीचे प्रश्न आकृतियों में दिखाए अनुसार कागज को मोड़कर काटने तथा खोलने के बाद वह किस उत्तर आकृति जैसा दिखाई देगा?



a.



b.

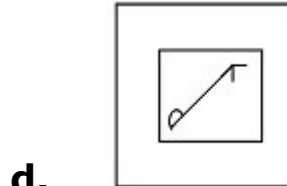
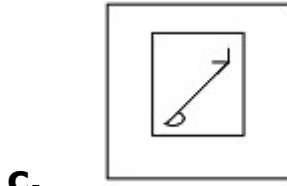
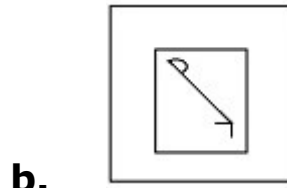
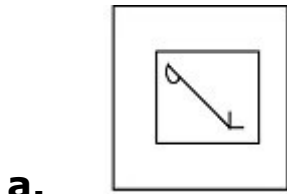
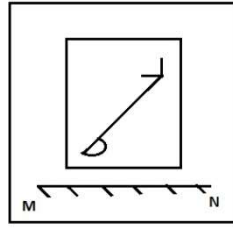


c.



d.

Q24. यदि एक दर्पण को MN रेखा पर रखा जाये तो दी गई उत्तर आकृतियों में से कौन सी आकृति प्रश्न आकृति की सही प्रतिबिम्ब होगी?



Q25. निम्नलिखित प्रश्न में विकल्पों में दिए गए संख्या-समूह, अक्षरों के दो वर्गों द्वारा दर्शाए गए हैं, जैसे कि नीचे दिए गए दो आव्यूहों में हैं। आव्यूह I के स्तम्भ और पंक्ति की संख्या 0 से 4 तक दी गई है, और आव्यूह II के 5 से 9 तक, इन आव्यूहों से एक अक्षर को पहले उसकी पंक्ति और बाद में स्तम्भ संख्या द्वारा दर्शाया जा सकता है। उदाहरण के लिए, A को 22, 10 आदि द्वारा दर्शाया जा सकता है तथा P को 55,67,79 आदि द्वारा दर्शाया जा सकता है। इसी तरह से आपको 'NEAT' शब्द के लिए सही समूह को पहचानना है।

	0	1	2	3	4			5	6	7	8	9	
0	L	N	E	A	C			5	P	T	O	R	S
1	A	C	L	N	E			6	R	S	P	T	O
2	N	E	A	C	L			7	T	O	R	S	P
3	C	L	N	E	A			8	S	P	T	O	R
4	E	A	C	L	N			9	O	R	S	P	T

a. 44,14,34,56

b. 20,33,78,75

c. 13,40,67,99

d. 32,21,41,68

ANSWERS

1. **(d)** 2. **(a)** 3. **(c)** 4. **(d)** 5. **(c)** 6. **(d)** 7. **(b)**
8. **(b)** 9. **(c)** 10. **(b)** 11. **(a)** 12. **(c)** 13. **(d)** 14. **(b)**
15. **(a)** 16. **(b)** 17. **(a)** 18. **(a)** 19. **(d)** 20. **(a)** 21. **(b)**
22. **(d)** 23. **(c)** 24. **(b)** 25. **(d)**