

- Q1. दिये गये विकल्पों में से संबन्धित शब्द/अक्षरों/संख्या को चुनिए।
 विद्युत प्रवाह : ऐम्पियर :: भार : ?
a. स्केल **b.** किलोग्राम **c.** वस्तु **d.** माप
- Q2. दिये गये विकल्पों में से संबन्धित शब्द/अक्षरों/संख्या को चुनिए।
 ACXZ : BDWY :: CEVX : ?
a. DFUZ **b.** DFUW **c.** DGUW **d.** DFUV
- Q3. दिये गये विकल्पों में से संबन्धित शब्द/अक्षरों/संख्या को चुनिए।
 37 : 65 :: 50 : ?
a. 75 **b.** 79 **c.** 82 **d.** 87
- Q4. निम्नलिखित प्रश्न में दिए गए विकल्पों में से विषम शब्द/अक्षर/संख्या को चुनिए?
a. थर्मामीटर **b.** बैरोमीटर **c.** डायामीटर **d.** हाइग्रोमीटर
- Q5. निम्नलिखित प्रश्न में दिए गए विकल्पों में से विषम शब्द/अक्षर/संख्या को चुनिए?
a. JF **b.** UQ **c.** PL **d.** XS
- Q6. निम्नलिखित प्रश्न में दिए गए विकल्पों में से विषम शब्द/अक्षर/संख्या को चुनिए?
a. 46-52 **b.** 56-62 **c.** 66-72 **d.** 76-84
- Q7. निम्नलिखित शब्दों को शब्द कोश में दिए गए क्रम के अनुसार लिखिए?
 1. Embody 2. Embrace 3. Embitter 4. Emblem
 5. Embroidery
a. 3, 4, 2, 5, 1 **b.** 4, 2, 5, 1, 3
c. 4, 1, 2, 5, 3 **d.** 3, 4, 1, 2, 5
- Q8. निम्नलिखित प्रश्न में एक अनुक्रम दिया गया है, जिसमें एक पद लुप्त है। दिए गए विकल्पों में से वह सही विकल्प चुनिए जो अनुक्रम को पूरा करे?
 CBA, FED, IHG, LKJ, ?
a. PRT **b.** VUT **c.** ONM **d.** ZYX
- Q9. निम्नलिखित प्रश्न में एक अनुक्रम दिया गया है, जिसमें एक पद लुप्त है। दिए गए विकल्पों में से वह सही विकल्प चुनिए जो अनुक्रम को पूरा करे?
 6, 12, 36, 144, 720, 4320, ?
a. 30420 **b.** 30240 **c.** 31240 **d.** 32240
- Q10. एक महिला का परिचय देते हुए पुरुष ने कहा, " कि उसकी माता मेरी सास की एक मात्र पुत्री है।" पुरुष का महिला के साथ क्या संबंध है?
a. पुत्र **b.** भाई **c.** पति **d.** पिता
- Q11. पांच बच्चें एक पंक्ति में खड़े हैं। O, M से तीसरा है, जो N के बायीं ओर खड़ा है। P, Q के बायीं ओर है, जो N से चौथा है। दायीं ओर से P का स्थान कौन-सा है?

a. तीसरा b. पहला c. चौथा d. दूसरा

Q12. निम्नलिखित विकल्पों में से वह शब्द चुनिए जो दिए गए शब्द के अक्षरों का प्रयोग करके नहीं बनाया जा सकता?

INTELLIGENCE

a. GENTLE b. TEEN c. GREEN d. ENGINE

Q13. यदि 'GOAT' को किसी कोड में 'HPBU' लिखा जा सकता है। तो 'FROG' को उसी कोड में क्या लिखा जाएगा?

a. GSPH b. PHSB c. GSHP d. PSHG

Q14. किसी कोड भाषा में @ काम तलब + है, ⊕ काम तलब - है, a काम तलब ÷ है, और θ काम तलब x है। तो निम्नलिखित प्रश्न का उत्तर दीजिए।

$8900a100 \oplus 5\theta 4 \oplus 121a11 = ?$

a. 58 b. 62 c. 158 d. 205

Q15. कुछ समीकरण एक निश्चित प्रणाली से हल किए गए हैं। उसी आधार पर हल न किये गये प्रश्न को हल कर के दिए गए विकल्पों में से सही उत्तर चुनिए?

$$1 \times 2 \times 3 = 231$$

$$3 \times 4 \times 5 = 453$$

$$5 \times 6 \times 7 = ?$$

a. 657 b. 675 c. 756 d. 765

Q16. दिए गए विकल्पों में से लुप्त अंक ज्ञात कीजिए?

4	3	6
3	5	4
2	2	3
14	16	?

a. 12 b. 18 c. 20 d. 30

Q17. रजनीश ने उत्तर की ओर चलना शुरू किया। वह 20 मीटर चलने के बाद बाएं मुड़ गया। 30 मीटर चलने के बाद वह फिर से दाईं ओर मुड़ गया। इस समय उसका चेहरा किस दिशा में है

a. उत्तर b. पूर्व c. पश्चिम d. दक्षिण

Q18. निम्नलिखित प्रश्न में एक या दो वक्तव्य दिये गये हैं, जिसके आगे चार निष्कर्ष/मान्यताएं, I, II, III और IV निकाले गये हैं। आपको विचार करना है कि वक्तव्य सत्य है चाहे वह

सामान्यतः ज्ञात तथ्यों से भिन्न प्रतीत होता हो। आपको निर्णय करना है कि दिए गए वक्तव्य में से कोन-सा निश्चित रूप से सही निष्कर्ष/मान्यता निकाला जा सकता है?

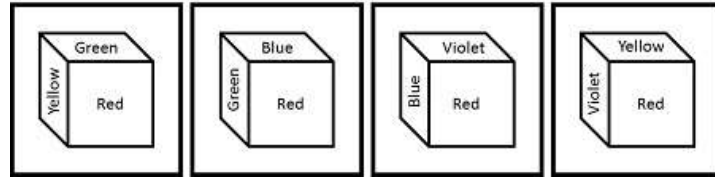
वक्तव्य :

1. सभी पुस्तकें वृक्ष हैं।
2. सभी वृक्ष शेर हैं।

निष्कर्ष :

- I. सभी पुस्तकें शेर हैं।
 - II. सभी शेर पुस्तकें हैं।
 - III. सभी वृक्ष पुस्तकें हैं।
 - IV. कुछ शेर पुस्तकें हैं।
- a. केवल निष्कर्ष I और III सही है।
 - b. केवल निष्कर्ष I और IV सही है।
 - c. कोई भी निष्कर्ष सही नहीं है।
 - d. सभी निष्कर्ष सही है।

Q19. प्रश्न आकृति में नीले के सामने कौन-सा रंग है?



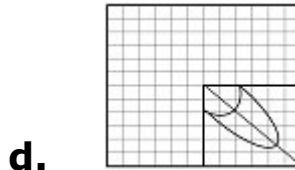
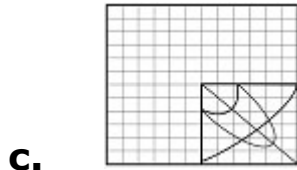
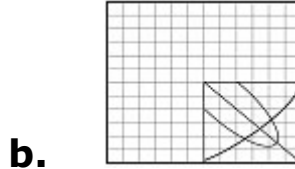
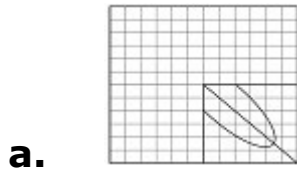
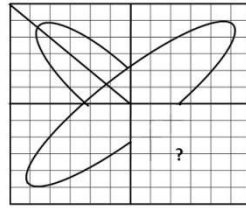
- a. हरा
- b. लाल
- c. बैंगनी
- d. पीला

Q20. वह आरेख बताइए जो निम्नलिखित श्रेणियों के बीच सही सम्बन्ध को दर्शाता है।

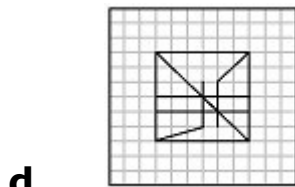
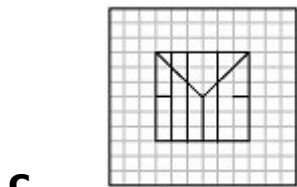
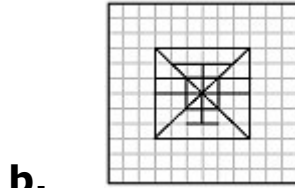
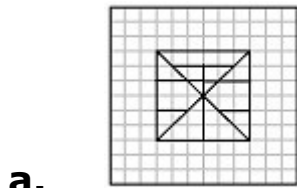
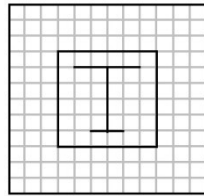
Professors, Women and Clerks

- a.
- b.
- c.
- d.

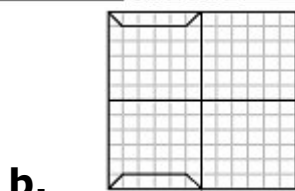
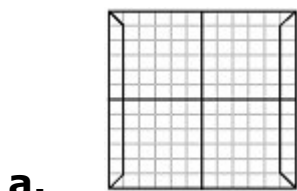
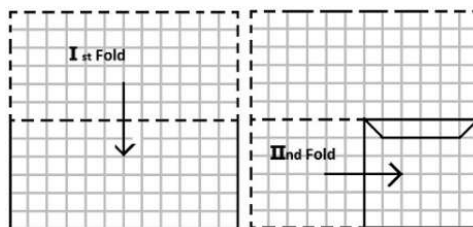
Q21. कौन-सी उत्तर आकृति प्रश्न आकृति के प्रतिरूप को पूरा करेगी?

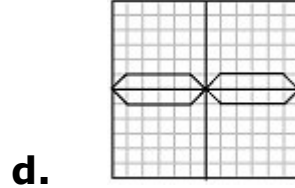
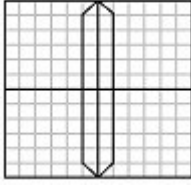


Q22. दी गई उत्तर आकृतियों में से उस उत्तर आकृति को चुनिए जिसमें प्रश्न आकृति निहित है?

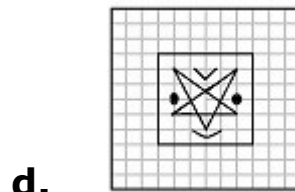
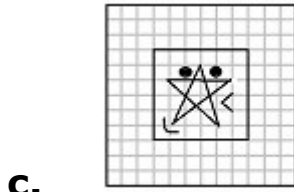
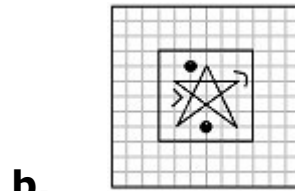
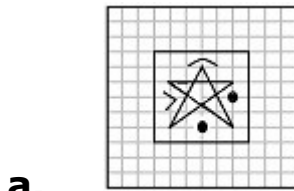
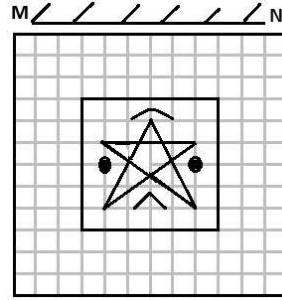


Q23. यदि किसी कागज को नीचे दिखाए प्रश्न के अनुसार मोड़कर काटा जाए तो खोलने के बाद वह किस उत्तर आकृति जैसा दिखाई देगा?





Q24. यदि एक दर्पण को MN रेखा पर रखा जाए तो दी गई उत्तर आकृतियों में से कौन-सी आकृति प्रश्न आकृति का सही प्रतिबिम्ब होगी ?



Q25. निम्नलिखित प्रश्न में एक शब्द केवल एक संख्या-समूह द्वारा दर्शाया गया है, जैसा कि विकल्पों में से किसी एक में दिया गया है। विकल्पों में दिए गए संख्या-समूह अक्षरों के दो वर्गों द्वारा दर्शाए गए हैं, जैसा कि नीचे दिए गए दो आव्यूहों में है। आव्यूह I के स्तम्भ और पंक्ति की संख्या 0 से 4 तक दी गई है और आव्यूह II की 5 से 9 तक इन आव्यूहों से एक अक्षर को पहले उसकी पंक्ति और बाद में स्तम्भ संख्या द्वारा दर्शाया जा सकता है। उदाहरण के लिए, D को 01, 13, आदि द्वारा दर्शाया जा सकता है तथा H को 55, 67, आदि द्वारा दर्शाया जा सकता है। इसी तरह से आपको दिए शब्द 'LIKE' के लिए समूह को पहचानना है।

MATRIX I

	0	1	2	3	4
0	C	D	E	F	G
1	F	G	C	D	E
2	D	E	F	G	C
3	E	F	G	C	D
4	G	C	D	E	F

MATRIX II

	5	6	7	8	9
5	H	K	L	I	N
6	I	N	H	K	L
7	K	L	I	N	H
8	L	I	N	H	K
9	N	H	K	L	I

- a.** 56, 58, 03, 02
c. 56, 62, 03, 02

- b.** 57, 65, 62, 02
d. 57, 68, 40, 02

ANSWERS

1. **(b)** 2. **(b)** 3. **(c)** 4. **(c)** 5. **(d)** 6. **(d)** 7. **(d)**
 8. **(c)** 9. **(b)** 10. **(d)** 11. **(d)** 12. **(c)** 13. **(a)** 14. **(a)**
 15. **(b)** 16. **(d)** 17. **(a)** 18. **(b)** 19. **(d)** 20. **(c)** 21. **(d)**
 22. **(b)** 23. **(d)** 24. **(d)** 25. **(b)**