

- Q1. दिये गये विकल्पों में से संबन्धित शब्द/अक्षरों/संख्या को चुनिए।
 पृथ्वी : ग्रह :: चांद : ?
a. सूरज **b.** विश्व **c.** शुक्र **d.** उपग्रह
- Q2. दिये गये विकल्पों में से संबन्धित शब्द/अक्षरों/संख्या को चुनिए।
 EJOT : _____ :: YDIN : VAFK
a. LQGB **b.** BGLQ **c.** QBGL **d.** BGQL
- Q3. दिये गये विकल्पों में से संबन्धित शब्द/अक्षरों/संख्या को चुनिए।
 100 : 102 :: 100000 : ?
a. 105 **b.** 104 **c.** 1003 **d.** 1004
- Q4. दिये गये विकल्पों में से विषम शब्द/अक्षर/संख्या युग्म चुनिए।
a. मंदिर **b.** प्रार्थना **c.** मस्जिद **d.** गिरजाघर
- Q5. दिये गये विकल्पों में से विषम शब्द/अक्षर/संख्या युग्म चुनिए।
a. M N O M **b.** B D C B **c.** X Z Y X **d.** P R Q P
- Q6. दिये गये विकल्पों में से विषमशब्द/अक्षर/संख्या युग्म चुनिए।
a. 70, 80 **b.** 54, 62 **c.** 28, 32 **d.** 21, 24
- Q7. निम्नलिखित शब्दों को शब्द कोश में दिए गए क्रम में लिखिए।
 1. Pearl 2. Peasant 3. Pea 4. Peanut
a. 3, 1, 4, 2 **b.** 3, 4, 1, 2
c. 1, 3, 2, 4 **d.** 1, 2, 3, 4
- Q8. अक्षरों का कौन-सा समूह खाली स्थानों पर क्रम वार रखने से दी गई अक्षर श्रृंखला को पूरा करेगा ?
 g f e _ i g _ e i i _ f e i _ g f _ i i
a. i f g i e **b.** f i g i e **c.** e i f g i **d.** i f i g e
- Q9. दिए गए विकल्पों में से कौन-सी संख्या प्रश्न वाचक चिन्ह पर रखने से श्रृंखला को पूरा करेगी-
 3, 6, 18, 72, ...?..., 2160
a. 144 **b.** 216 **c.** 288 **d.** 360
- Q10. एक महिला का परिचय देते हुए दूसरी महिला ने कहा, कि वह महिला मोहन के दादा, जो मेरे पति के पिता हैं, कि इकलौती बेटी है। दूसरी महिला का पहली से क्या सम्बन्ध है?
a. चाची/बुआ **b.** माता **c.** सासु-माँ **d.** भाभी

Q11. दो साल पहले आध्या की आयु अपने बेटे की आयु की 3 गुना थी, और 2 वर्ष बाद उसकी आयु का 2 गुणा उसके बेटे की आयु के 5 गुने के समान होगा। आध्या की वर्तमान आयु ज्ञात कीजिए?

- a.** 38 वर्ष **b.** 36 वर्ष **c.** 34 वर्ष **d.** 42 वर्ष

Q12. निम्नलिखित विकल्पों में से वह शब्द चुनिए जो दिए गए शब्द के अक्षरों का प्रयोग करके नहीं बनाया जा सकता।

ADMINISTRATION

- a.** STRAIN **b.** TRADITION
c. SITUATION **d.** RATION

Q13. यदि MOTHER को KMRFPC लिखा जाए, तो HOUSE को क्या लिखा जाएगा?

- a.** FMRPC **b.** GNSQD **c.** GNRQD **d.** FMSQC

Q14. यदि D काम तलब 'x' , S काम तलब '+', A मतलब '-' , और M मतलब '÷' हो, तो नीचे दिए गए समीकरण का मान ज्ञात कीजिए?

28D6S34M2A8D6

- a.** 558 **b.** 3312 **c.** 137 **d.** 31

Q15. यदि $3 \times 4 = 10$, $5 \times 8 = 18$, हो, तो $7 \times 7 = ?$

- a.** 26 **b.** 21 **c.** 28 **d.** 49

Q16. निम्नलिखित प्रश्न में एक अनुक्रम दिया गया है, जिसमें एक संख्या लुप्त है। दिए गए विकल्पों में से सही उत्तर छाँटकर अनुक्रम को पूरा कीजिए।

1	2	3
11	7	5
120	45	?

- a.** 19 **b.** 16 **c.** 15 **d.** 17

Q17. राहुल दक्षिण की ओर जाता है, फिर अपने दाएँ ओर मुड़कर 5 कि.मी. चलता है, फिर बाएँ ओर मुड़कर 3 कि.मी. चलता है, दोबारा फिर बाएँ ओर मुड़कर 5 कि.मी. चलता है। शुरुआती बिन्दु से वह किस दिशा में है?

- a.** उत्तर **b.** दक्षिण **c.** पूर्व **d.** पश्चिम

Q18. निम्नलिखित प्रश्न में एक या दो वक्तव्य दिये गये हैं, जिसके आगे दो निष्कर्ष/मान्यताएं, I और II निकाले गये हैं। आपको विचार करना है कि वक्तव्य सत्य है चाहे वह सामान्यतः शर्त तथ्यों से भिन्न प्रतीत होता हो। आपको निर्णय करना है कि दिए गए वक्तव्य में से कोन-सा निश्चित रूप से सही निष्कर्ष/मान्यता निकाला जा सकता है?

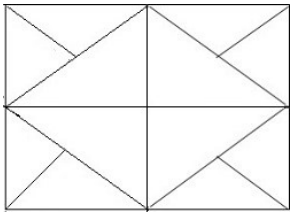
कथन :

- I. ओडीसा अब भी एक अविकसित राज्य है।
- II. गरीबी, बेरोजगारी, और निरक्षरता जैसी समस्या हल नहीं हुई हैं।

निष्कर्ष :

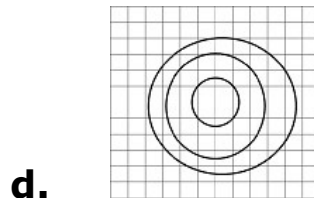
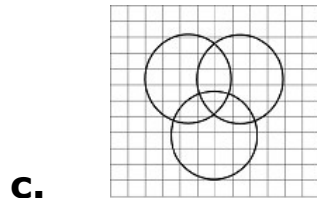
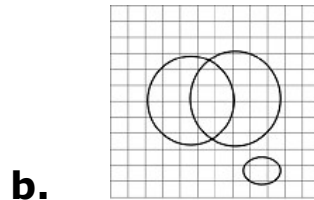
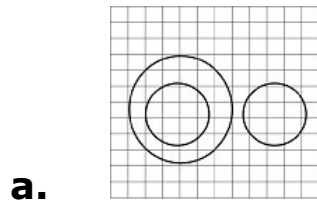
- I. ओडीसा प्रशासन की संवेदनशीलता पर्याप्त नहीं है।
 - II. यह ईश्वर की इच्छा है।
- a. केवल निष्कर्ष I सही है।
 - b. केवल निष्कर्ष II सही है।
 - c. निष्कर्ष I और II दोनों सही हैं।
 - d. ना तो निष्कर्ष I सही है ना ही II सही है।

Q19. नीचे दिए गए चित्र में कितने त्रिकोण हैं?

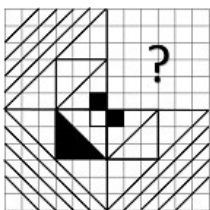


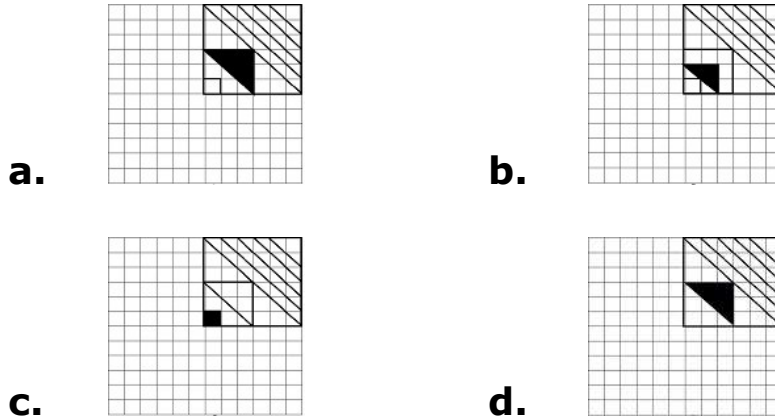
- a. 12
- b. 16
- c. 10
- d. 20

Q20. निम्नलिखित विकल्पों में से कौन-सा चित्र न्यायाधीशों, चोरों और अपराधियों के बीच सही सम्बन्ध को दर्शाता है?

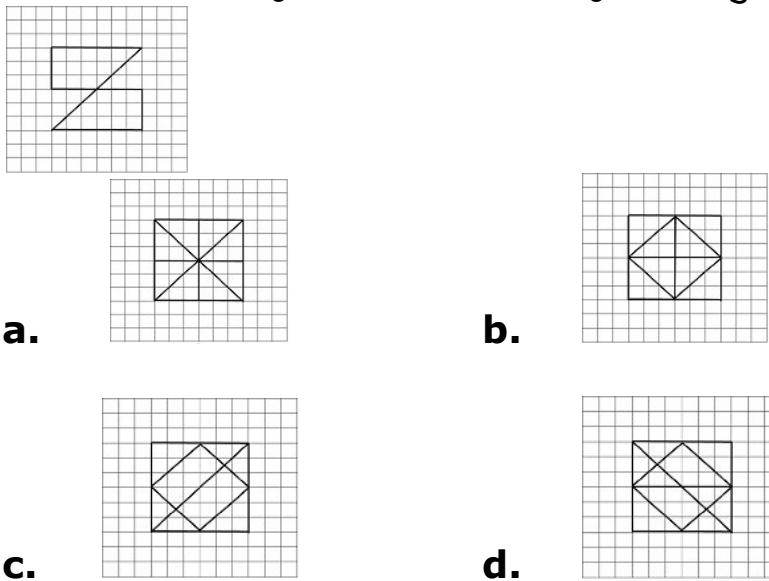


Q21. निम्नलिखित में से कौन-सी उत्तर-आकृति प्रश्न-आकृति के प्रतिरूप को पूरा करेगी?

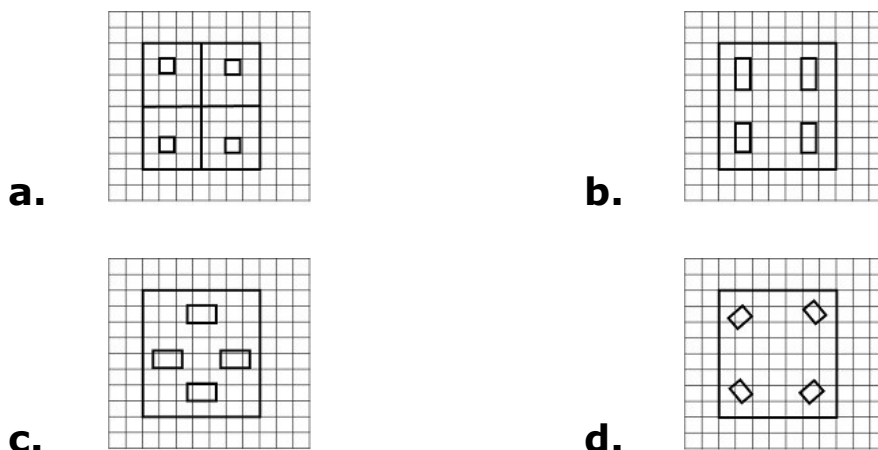
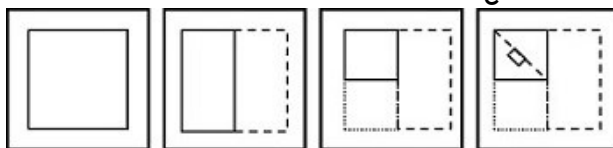




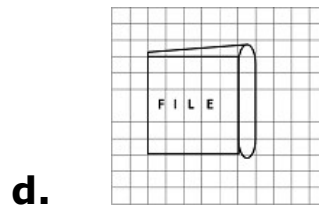
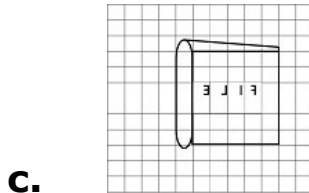
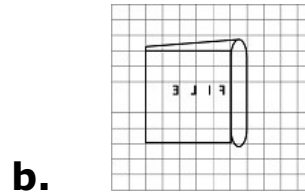
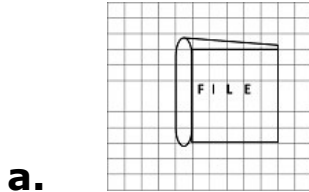
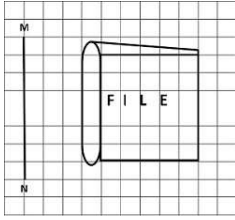
Q22. दिए गई उत्तर आकृतियों में से उस आकृति को चुनिए जिसमें प्रश्न आकृति निहित है।



Q23. यदि किसी कागज़ को नीचे दिए गए प्रश्न के अनुसार मोड़कर उसमें छेद किया जाए तो खोलने के बाद वह किस आकृति जैसा दिखाई देगा?



Q24. यदि एक दर्पण को MN रेखा पर रखा जाए तो दी गई उत्तर आकृतियों में से कौन-सी आकृति प्रश्न आकृति का सही प्रतिबिम्ब होगी?



Q25. निम्नलिखित प्रश्न में विकल्पों में दिए गए संख्या-समूह, अक्षरों के दो वर्गों द्वारा दर्शाए गए हैं, जैसे कि नीचे दिए गए दो आव्यूहों में हैं। आव्यूह I के स्तम्भ और पंक्ति की संख्या 0 से 4 तक दी गई है, और आव्यूह II के 5 से 9 तक, इन आव्यूहों से एक अक्षर को पहले उसकी पंक्ति और बाद में स्तम्भ संख्या द्वारा दर्शाया जा सकता है। उदाहरण के लिए 'K' को 00, 24 आदि द्वारा दर्शाया जा सकता है, तथा 'A' को 55 द्वारा दर्शाया जा सकता है। इसी तरह से आपको दिए हुए शब्द 'SHIP' के लिए समूह को पहचानना है।

Matrix-I						Matrix-II					
	0	1	2	3	4		5	6	7	8	9
0	K	G	E	A	S	5	A	H	U	W	N
1	P	V	H	R	Y	6	Y	R	B	T	V
2	N	V	N	R	K	7	O	I	H	B	Q
3	W	S	B	O	J	8	V	O	E	I	S
4	T	U	A	I	P	9	E	T	K	W	P

a. 31, 56, 43, 10

b. 89, 12, 40, 99

c. 04, 21, 76, 44

d. 89, 56, 34, 11

ANSWERS

- | | | | | | | | | | | | | | |
|-----|------------|-----|------------|-----|------------|-----|------------|-----|------------|-----|------------|-----|------------|
| 1. | (d) | 2. | (b) | 3. | (a) | 4. | (b) | 5. | (a) | 6. | (b) | 7. | (b) |
| 8. | (a) | 9. | (d) | 10. | (d) | 11. | (a) | 12. | (c) | 13. | (d) | 14. | (c) |
| 15. | (b) | 16. | (b) | 17. | (b) | 18. | (d) | 19. | (d) | 20. | (a) | 21. | (a) |
| 22. | (a) | 23. | (d) | 24. | (b) | 25. | (a) | | | | | | |